



ΜΑΘΗΜΑΤΙΚΑ Γ' ΤΑΞΗΣ

Μέτρηση μήκους με εκατοστά και χιλιοστά
Επίπεδα γεωμετρικά σχήματα και στερεά

ΑΡ. ΦΥΛ. 9

Όνομα: _____

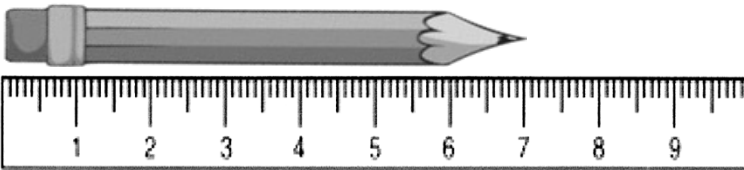
1. Παρατηρώ προσεκτικά το μέτρο μου και απαντώ:

- Σε πόσα δέκατα χωρίζεται το μέτρο; _____
- Σε πόσα εκατοστά χωρίζεται το μέτρο; _____
- Σε πόσα χιλιοστά χωρίζεται το μέτρο; _____

Να θυμάσαι:
1 μέτρο έχει:
• 10 δέκατα
• 100 εκατοστά
• 1.000 χιλιοστά



2. Μετρώ το μήκος:



Είναι _____ εκατοστά.

Είναι _____ χιλιοστά.



Είναι _____ εκατοστά.

Είναι _____ χιλιοστά.

3. Μετρώ την απόσταση που θα γράψει το κάθε μολύβι τρέχοντας:



Είναι _____ εκατοστά.

Είναι _____ χιλιοστά.



Είναι _____ εκατοστά.

Είναι _____ χιλιοστά.



Είναι _____ εκατοστά.

Είναι _____ χιλιοστά.

4. Να κάνεις τις μετατροπές:

1 μέτρο = _____ εκατοστά

200 εκατοστά = _____ μέτρα

3 μέτρα = _____ εκατοστά

90 δέκατα = _____ μέτρα

2 μέτρα = _____ δέκατα

50 δέκατα = _____ μέτρα

5 μέτρα = _____ χιλιοστά



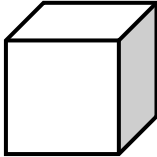

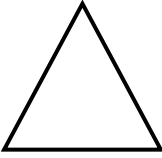

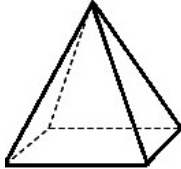
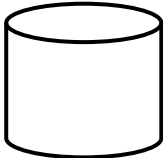
400 εκατοστά = _____ μέτρα

6 μέτρα = _____ δέκατα

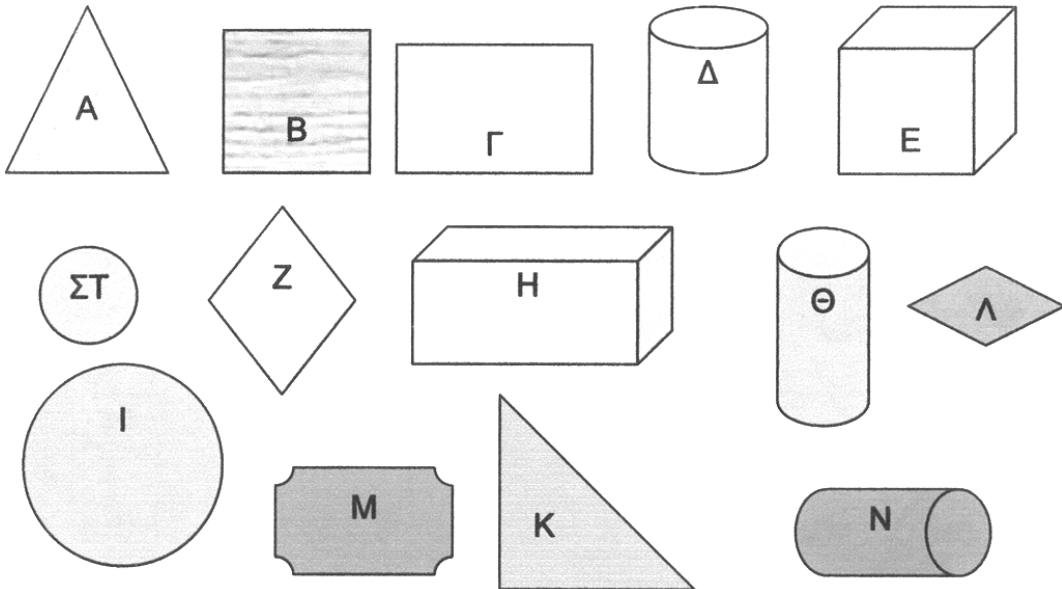
1.000 χιλιοστά = _____ μέτρα

3 μέτρα = _____ χιλιοστά

2.000 χιλιοστά = _____ μέτρα

ΕΠΙΠΕΔΑ ΓΕΩΜΕΤΡΙΚΑ ΣΧΗΜΑΤΑ		ΓΕΩΜΕΤΡΙΚΑ ΣΤΕΡΕΑ	
			
κύβος	παραλληλόγραμμο	κύβος	Ορθογώνιο παραλληλεπίπεδο
			
τρίγωνο	κύκλος	πυραμίδα	κύλινδρος

5. Παρατηρώ τα σχήματα και τα στερεά (υλικά) σώματα και τα τοποθετώ στη σωστή κατηγορία:



Τετράγωνο	Ορθογώνιο παραλληλόγραμμο	Ρόμβος	Κύκλος	Τρίγωνο

Κύβος	Ορθογώνιο παραλληλεπίπεδο	Κύλινδρος

ΟΙ ΔΙΑΣΤΑΣΕΙΣ ΤΩΝ ΣΤΕΡΕΩΝ